



## Prova do nível 2 (para alunos da 3ª e 4ª séries)

IX Olimpíada Brasileira de Astronomia e Astronáutica – 2006

Sociedade Astronômica Brasileira (SAB) - Agência Espacial Brasileira (AEB)

(Veja o gabarito em nossa home page [www.oba.org.br](http://www.oba.org.br) ou aguarde o(a) professor(a) mostrá-lo).

Nota de Astronomia: \_\_\_\_\_

Nota Final: \_\_\_\_\_

Nota de Astronáutica: \_\_\_\_\_

Visto do(a) Prof(a): \_\_\_\_\_

Observação: A Nota Final é a soma das notas de Astronomia e de Astronáutica

### Dados do(a) aluno(a) (use somente letras de fôrma):

Nome completo:.....

Endereço: .....n.º.....

Bairro:..... CEP: \_\_\_\_\_ - \_\_\_\_\_ Cidade: ..... Estado: \_\_\_\_

Tel (\_\_\_\_) \_\_\_\_\_ - \_\_\_\_\_ E-mail: ..... Data de Nascimento \_\_\_\_/\_\_\_\_/\_\_\_\_

Série que está cursando: ..... Quantas vezes você já participou da OBA?

.....

### Dados da escola onde o(a) aluno(a) estuda:

Nome ..... da

escola:.....

Endereço:

.....n.º.....

Bairro:..... CEP: \_\_\_\_\_ - \_\_\_\_\_ Cidade: ..... Estado: \_\_\_\_

Tel (\_\_\_\_) \_\_\_\_\_ - \_\_\_\_\_ Fax (\_\_\_\_) \_\_\_\_\_ - \_\_\_\_\_ E-mail: .....

### Nome completo do(a) professor(a) representante da Escola junto à OBA:

.....

...

**Início da prova: às 14 horas. Final da prova: às 16 horas (Horário de Brasília).**

**Data da realização desta prova para ter efeito oficial: 12 de MAIO de 2006.**

**Esta prova só pode ser realizada por alunos da 3ª e 4ª séries do ensino fundamental.**

*Caro participante Olímpico,*

*Parabéns por estar participando da Olimpíada Brasileira de Astronomia e Astronáutica! Certamente você já está ganhando ao participar desta Olimpíada, pois para tanto você observou o céu mais atentamente, leu e estudou, e quem estuda está sempre ganhando. Gostaríamos que você prestasse muita atenção nos enunciados das questões, pois eles geralmente possuem informações que ajudam você a responder à própria questão ou, então, a outras questões da prova. Esta prova contém 7 perguntas de Astronomia e 3 de Astronáutica. Esperamos que aprenda muito durante esta Olimpíada. Esperamos também que tenha estudado as provas anteriores da OBA, porque nós sempre repetimos algumas perguntas. Nas questões 6 e 7 você só pode resolver o item A ou o item B de cada uma delas. Seu professor vai explicar. De 1 a 7 estão as perguntas de Astronomia e de 8 a 10 as perguntas de Astronáutica.*

## BOA OLIMPÍADA!

**Questão 1) (1 ponto)** As estrelas são astros que emitem luz. Ao redor das estrelas podem existir planetas. Os astrônomos já descobriram planetas ao redor de duzentas estrelas, mas por enquanto somente planetas grandes, bem maiores do que Terra.

**Perguntas:**

**1a) (0,5 ponto)** Qual é o nome do maior planeta do sistema solar? Ele é gasoso e tem uma mancha vermelha.

**Resposta 1a):** .....

**1a) - Nota obtida:** \_\_\_\_\_

**1b) (0,5 ponto)** Qual é o nome da estrela da qual depende toda a vida na Terra? Esta você não vê à noite.

**Resposta 1b):** .....

**1b) - Nota obtida:** \_\_\_\_\_

---

**Questão 2) (1 ponto)** O Sol emite luz própria, porque ele é uma enorme bola de “gás” em chamas. Na verdade não é um gás normal, pois a matéria lá está em tão alta temperatura que os cientistas chamam ela de plasma.

**Perguntas:**

**2a) (0,5 ponto)** O calor do Sol é vital para a vida na Terra. O que acontecerá com todos os seres humanos se o Sol, de repente, se apagar, totalmente, para sempre?

**Resposta 2a):** .....

**2a) - Nota obtida:** \_\_\_\_\_

**2b) (0,5 ponto)** O Sol tem temperatura superficial de 6.000 °C (graus Celsius) e tem cor amarela. As Plêiades, por outro lado, são estrelas jovens, enormes, quentíssimas e são da cor AZUL. Quais estrelas são as mais quentes: as amarelas ou as azuis?

**Resposta 2b):** .....

**2b) - Nota obtida:** \_\_\_\_\_

---

**Questão 3) (1 ponto)** Quando você está viajando num ônibus, você é passageiro daquele ônibus e pode descer quando chega ao seu destino. Quem dirige o ônibus é o motorista.

**Perguntas:**

**3a) (0,5 ponto)** Todos nós moramos num grande “ônibus”, chamado planeta Terra, que nos leva ao redor do Sol o tempo todo e do qual não podemos descer e nele não há nenhum motorista! Como vê, estamos numa grande enrascada! Desenhe e pinte (se tiver lápis azul) o planeta Terra, quando visto do espaço, no espaço abaixo.

**Resposta 3a):**

**3a) - Nota obtida:** \_\_\_\_\_

**3b) (0,5 ponto)** Já que estamos numa “fria” (moramos num “ônibus” que não tem motorista e do qual não podemos sair), temos que cuidar muito bem deste “ônibus” para que ele não se estrague. O que os seres humanos precisam fazer para cuidar bem deste “ônibus”, digo, planeta?

**Resposta 3b):** .....

**3b) - Nota obtida:** \_\_\_\_\_

---

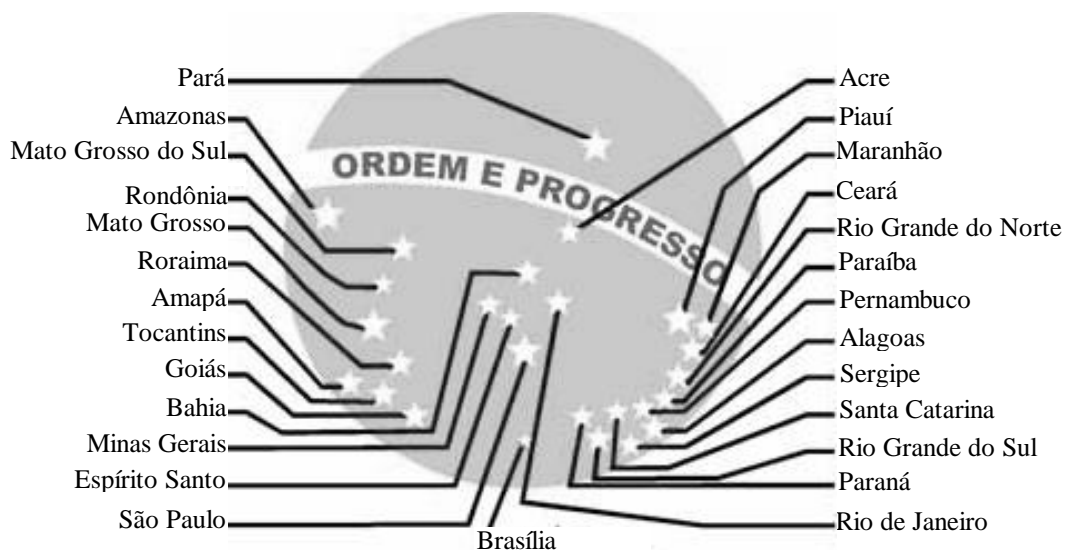
**Questão 4) (1 ponto)** (0,2 pontos cada item correto) Esta questão é sobre as características dos planetas. Escreva certo ou errado em frente de cada afirmação abaixo. Em cada linha, ou está tudo certo, ou está tudo errado.

**4) - Nota obtida:** \_\_\_\_\_

	<b>a)</b> Saturno tem lindos anéis, mas Júpiter, Urano e Netuno também têm anéis, mas são fininhos.
	<b>b)</b> Júpiter é o maior dos planetas gasosos e tem uma grande mancha vermelha.
	<b>c)</b> Vênus é quase do mesmo tamanho da Terra, é o mais quente dos planetas e não tem nenhuma lua.
	<b>d)</b> Plutão é o menor, mais frio, mais distante dos planetas do sistema solar e tem só uma lua (Caronte).

e) Mercúrio é o menor e mais quente dos planetas.

**Questão 5) (1 ponto)** Abaixo está a parte central da bandeira do Brasil. (Claro que as cores não são estas!) Como vê, nós brasileiros gostamos muito das estrelas, pois até em nossa bandeira colocamos estrelas. Cada estrela em nossa bandeira representa um Estado. O Distrito Federal também é representado por uma estrela.



**Perguntas:**

**5a) (0,5 ponto)** Pinte de qualquer cor as estrelas que correspondem aos Estados da BA, MG, ES, SP e RJ. (0,1 ponto cada estrela pintada corretamente)

**5a) - Nota obtida:** \_\_\_\_\_

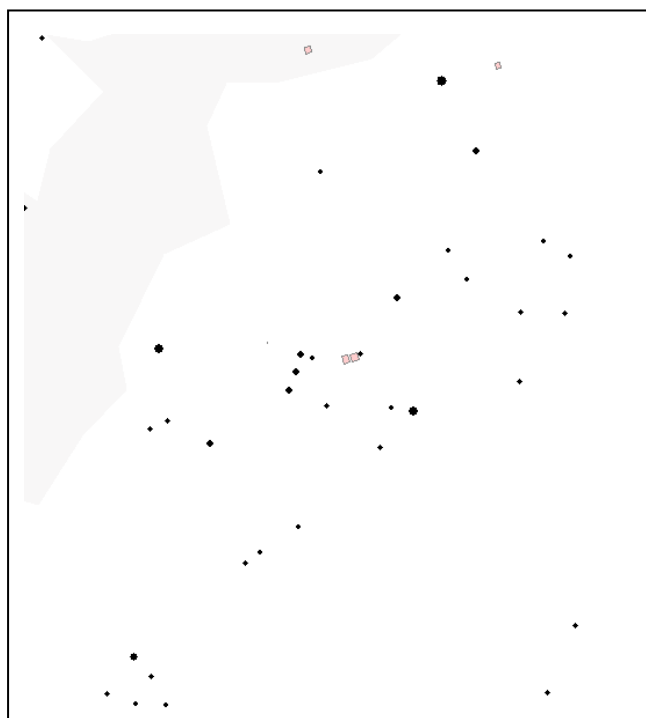
**5b) (0,5 ponto)** Qual é o nome da constelação formada pelas estrelas que você pintou no item anterior?

**Resposta 5b):** .....

**5b) - Nota obtida:** \_\_\_\_\_

**Questão 6) (1 ponto) PERGUNTA OBSERVACIONAL NOTURNA. A QUESTÃO 6a SÓ PODE SER RESPONDIDA SE VOCÊ OLHOU PARA O CÉU COM O MAPA QUE ENVIAMOS PREVIAMENTE PARA SEU(SUA) PROFESSOR(A), CASO CONTRÁRIO, RESPONDA SOMENTE A QUESTÃO 6b, A QUAL TAMBÉM VALE UM PONTO. Você só pode responder a questão 6a ou a 6b e não as duas.**

**A figura da esquerda deve ser usada pelos alunos das regiões Norte, Nordeste e Centro Oeste e a da direita pelos alunos das regiões Sul e Sudeste.**



**Questão 6a) (1 ponto) Para quem mora nas regiões Sul ou Sudeste a pergunta é a seguinte:** Na figura da direita está a região do céu que contém o Cruzeiro do Sul e o falso Cruzeiro do Sul. Faça uma bolinha ao redor de cada uma das 5 estrelas do Cruzeiro do Sul e coloque um X sobre cada uma das 4 estrelas do falso Cruzeiro do Sul. (0,1 ponto para cada estrela assinalada corretamente; se acertar todas ganha 1 ponto)

**Para quem mora nas regiões Norte, Nordeste ou Centro-Oeste a pergunta é a seguinte:** Na figura da esquerda está a região do céu que contém as constelações de Órion e Touro. Coloque um X sobre cada uma das 3 Marias, uma círculo ao redor de cada uma das 4 estrelas mais brilhantes de Orion, um Y sobre Sírius (a estrela mais brilhante, fora o Sol) e faça um quadrado envolvendo toda a constelação do Touro. (0,1 ponto para cada item assinalado corretamente; se acertar todos ganha 1 ponto)


**6a) OU 6b) - Nota obtida: \_\_\_\_\_**

**Atenção!** Somente se você **não** respondeu a questão **6a** é que você pode responder a questão **6b**.

**Questão 6b) (1 ponto)** Escreva o nome de 6 estrelas e 4 constelações. (Cada item correto vale 0,1 ponto.)

**Resposta 6b)** 1) ..... 2) ..... 3) ..... 4) .....  
 5) ..... 6) .....  
 1) ..... 2) ..... 3) ..... 4) .....

**Questão 7) (1 ponto) PERGUNTA OBSERVACIONAL DIURNA. A QUESTÃO 7a SÓ PODE SER RESPONDIDA SE VOCÊ FEZ A TAREFA OBSERVACIONAL QUE ENVIAMOS PARA O SEU PROFESSOR ANTES DA OLIMPÍADA, CASO CONTRÁRIO, RESPONDA SOMENTE A QUESTÃO 7b, A QUAL TAMBÉM VALE UM PONTO. Você só pode responder a questão 7a ou a 7b e não as duas.**



**Questão 7a) (1 ponto)**

Na tarefa que enviamos ao seu professor antes da Olimpíada, pedimos que você determinasse o instante (a hora) em que a sombra do seu lápis era a menor do dia. Se você fez esta tarefa, então entregue junto com esta prova as tabelas com as medidas que você fez.

- a) (0,1 ponto) Em que dia e mês você fez esta experiência? ..... **Resposta: .....**
- b) (0,1 ponto) Qual era o comprimento do lápis que você usou? ..... **Resposta: .....**
- c) (0,1 ponto) A que horas a sombra do seu lápis era a menor do dia? ..... **Resposta: .....**
- d) (0,1 ponto) Qual era o comprimento da sombra mínima do seu lápis? ..... **Resposta: .....**
- e) (0,6 pontos) Suponha que a sombra mínima do seu lápis tenha sido conforme está no desenho acima. **Desenhe**, usando a figura acima, uma reta indicando a direção Norte e Sul e outra reta indicando a direção Leste e Oeste, mas escreva sobre cada uma delas qual é a Norte-Sul e qual é a Leste-Oeste, ok?

**Atenção!** Somente se você **não** respondeu a questão **7a** é que você pode responder a **7b**.

**Questão 7b) (1 ponto) a)** Escreva o nome dos planetas que não possuem luas, **b)** o nome dos planetas que possuem uma ou duas luas e **c)** os nomes destas luas.  
 (0,1 ponto cada item correto, acertando tudo ganha 1,0 ponto)

**Resposta 7b) a)** 1) ..... 2) ..... 3) ..... 4) .....  
 b) 1) ..... 2) ..... 3) ..... 4) .....  
 c) 1) ..... 2) ..... 3) ..... 4) .....

**7a) OU 7b) - Nota obtida: \_\_\_\_\_**

**AQUI COMEÇAM AS QUESTÕES DE ASTRONÁUTICA. BOA SORTE PARA VOCÊ AQUI TAMBÉM!**

**Comentário.** Em 1891 Santos Dumont precisou ir para a França para poder ter condições de inventar o Avião. Hoje, no Brasil, temos fábrica de aviões e, além disso, construímos até foguetes e satélites. Satélites são construídos no Instituto Nacional de Pesquisas Espaciais (INPE) e foguetes no Instituto de Aeronáutica e Espaço (IAE), órgão do Comando Geral de Tecnologia Aeroespacial (CTA). Para coordenar as atividades espaciais brasileiras existe a Agência Espacial Brasileira (AEB) que, por meio do Programa AEB Escola, promove atividades educacionais em escolas do Brasil.

**Questão 8) (1 ponto)** O brasileiro Alberto Santos Dumont (1873-1932) é o inventor mais conhecido dos brasileiros, por ter inventado o avião, o que é uma injustiça com as centenas de outros grandes inventores brasileiros. No Brasil Santos Dumont é considerado o **“Pai da aviação”**. Em 2006 comemora-se o centenário do vôo do primeiro avião, o **14-Bis**, ocorrido há 100 anos em Paris, a capital francesa.

**Perguntas:**

**8a) (0,5 ponto)** Em que ano ocorreu o vôo de Santos Dumont com o **14-Bis**?

**Resposta 8a):** .....

**8a) - Nota obtida:** \_\_\_\_\_

**8b) (0,5 ponto)** Em que país estava Santos Dumont quando voou com o **14-Bis**, pela primeira vez, há 100 anos?

**Resposta 8b):** .....

**8b) - Nota obtida:** \_\_\_\_\_

**Questão 9) (1 ponto)** A tecnologia evoluiu muito desde o 14 BIS, que voava bem baixinho. Hoje temos aviões de todos os tamanhos, satélites (como aquele do cartaz da IX OBA, o CBERS, construído por brasileiros e chineses e que gira em órbita ao redor da Terra a 800 km da superfície) e até a Estação Espacial Internacional (da qual o Brasil é sócio) e que voa a 350 km acima da superfície terrestre.


**Pergunta:** Abaixo temos os esquemas (desenhos) das 4 máquinas voadoras mencionadas acima. Escreva dentro dos parênteses “( )” que estão debaixo de cada desenho, o número 1 para aquele que voou mais baixinho, 2 para o que voa um pouco mais alto, 3 para aquele que voa ainda mais alto e 4 para aquele que voa mais alto de todos.




Avião  
( )



14 BIS  
( )



Satélite CBERS  
( )



Estação Espacial  
Internacional  
( )

**(0,25 para cada acerto)**

**9) - Nota obtida:** \_\_\_\_\_

**Questão 10) (1 ponto)** No motor do foguete os gases resultantes da queima do combustível são liberados através de uma tubeira. Os gases liberados em altíssima velocidade geram a força necessária para mover o foguete em sentido oposto. O mesmo efeito ocorre com uma bexiga (balão ou bola) de aniversário, quando a enchemos de ar e a soltamos. **a) (0,2 pontos)** Desenhe no espaço abaixo um foguete. **b) (0,3 pontos)** Indique com um **X**, no foguete que você desenhou, em que local os gases estão sendo liberados. **c) (0,5 pontos)** Indique com uma seta (←) no seu desenho, em que direção o foguete voará.

**10) - Nota obtida:** \_\_\_\_\_