

SOCIEDADE ASTRONÔMICA BRASILEIRA – SAB
VI Olimpíada Brasileira de Astronomia – VI OBA - 2003
Prova do nível I (para alunos de 1ª à 4ª série)

(Veja o gabarito em nossa home
page <http://www.oba.org.br> ou
aguarde o professor mostrar).

Nota Final Obtida: _____
Visto do(a) Prof(a).: _____

Dados do(a) aluno(a) (use letras de fôrma):

Nome completo:.....
Endereço: n.º.....
Bairro:..... CEP: _____ - _____ Cidade: Estado: __
Tel (0 xx _ _) _____ - _____ E-mail: Data de Nascimento __/__/__

Dados da escola onde o(a) aluno(a) estuda:

Nome da escola.....
Endereço: n.º.....
Bairro:..... CEP: _____ - _____ Cidade: Estado: __
Tel (0 xx _ _) _____ - _____ Fax (0 xx _ _) _____ E-mail:

Nome do(a) professor(a) representante da Escola junto à OBA:

Nome:

Obs.: Caso você não esteja fazendo a prova na própria escola onde estuda, escreva abaixo, o nome da escola onde você está fazendo a prova:

Nome:

Início da prova: 14 horas. Final da prova: 16 horas (Horário de Brasília).

Caro participante Olímpico,

Em nome da Sociedade Astronômica Brasileira (SAB) damos os nossos parabéns para você. Certamente você já está ganhando ao participar desta Olimpíada, pois para tanto você estudou, leu, se preparou e quem estuda sempre está ganhando. Gostaríamos que você prestasse muita atenção nos enunciados das questões, pois elas geralmente possuem informações que ajudam você responder à própria questão ou então, outras questões da prova.

Boa Olimpíada!

Questão 1) (1 ponto) Em alguns livros didáticos existem “fotos” do planeta Plutão, mas de fato não existem fotos de Plutão. Nenhuma nave chegou perto dele o suficiente para fotografá-lo. Nem mesmo o poderoso telescópio chamado Hubble, que está em órbita da Terra, consegue fotografar detalhes da sua superfície.

Perguntas:

1a) (0,5 ponto) Qual é o nome do menor planeta do sistema solar? Cuidado! Tem livros velhos que dizem que é Mercúrio, mas isso está errado. Hoje os astrônomos têm certeza que Mercúrio não é o menor planeta do sistema solar.

1b) (0,5 ponto) Qual é o nome do planeta que normalmente é o mais distante do sistema solar? Este planeta foi descoberto em 18 de Fevereiro de 1930 por Clyde William Tombaugh.

Respostas:**Resposta 1a):****1a) - Nota obtida: _____****Resposta 1b):****1b) - Nota obtida: _____**

Questão 2) (1 ponto) Geralmente os livros didáticos descrevem o sistema solar como tendo nove planetas. Muitas pessoas acabam pensando que além de Plutão, não existe mais nada. Na verdade depois de Plutão o sistema solar ainda continua. Só que lá não tem planetas grandes ou pequenos como Plutão. Depois de Plutão existe uma região chamada de “Cinturão de Kuiper”. Ele é um pouco parecido com o “Cinturão de Asteróides” que existe entre Marte e Júpiter, do qual você talvez já tenha ouvido falar ou lido sobre ele. Chamamos de “Cinturão” por que eles são como “cintas” (destas usadas para a calça não cair), mas são bem largas. Neste “Cinturão de Kuiper” já foram identificados dezenas de asteróides.

Perguntas:

2a) (0,5 ponto) Você acha que já existe alguma foto com detalhes da superfície dos asteróides do “Cinturão de Kuiper”? Pense bem! Eles são pequeníssimos e estão depois de Plutão.

2b) (0,5 ponto) Se nem de Plutão existe foto com detalhes de sua superfície, você acha que é possível já existir foto com detalhes da única lua de Plutão, chamada Caronte? Pense bem! As Luas são sempre menores do que os Planetas.

Respostas:**Resposta 2a):****2a) - Nota obtida: _____****Resposta 2b):****2b) - Nota obtida: _____**

Questão 3) (1 ponto) Apesar de Plutão ser o menor e mais distante planeta do sistema solar já temos bastante informações sobre ele. Por exemplo, sabemos que ele tem só uma lua, a qual chamamos de Caronte. Caronte tem algo de muito interessante. Caronte fica sempre com a mesma face virada para Plutão e Plutão também fica sempre com a mesma face virada para Caronte. Se você morasse em Plutão na face (ou hemisfério) que fica virada para Caronte, toda noite você veria Caronte no mesmo lugarzinho no céu (céu de Plutão, claro!). Por outro lado, se você morasse em Plutão na face oposta àquela virada para Caronte, você nunca veria Caronte a menos que viajasse até o outro hemisfério de Plutão.

Perguntas:

3a) (0,5 ponto) Tem um outro planeta, o qual, tal qual Plutão, também só tem uma lua (ou satélite natural) e esta lua fica sempre com a mesma face virada para o planeta, mas diferentemente de Plutão, este planeta não fica sempre com a mesma face virada para esta sua lua. Pergunta: Qual é o nome deste planeta?

3b) (0,5 ponto) Qual é o nome da lua deste planeta?

Respostas:

Resposta 3a):

3a) - Nota obtida: _____

Resposta 3b):

3b) - Nota obtida: _____

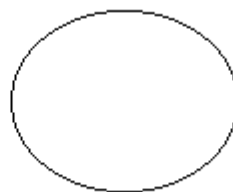
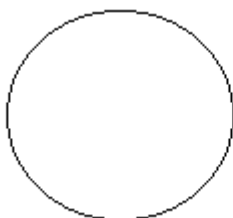
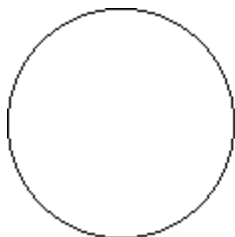
Questão 4) (1 ponto) Esperamos que tenha o hábito de ler as provas anteriores das OBAs e seus respectivos gabaritos, pois esta questão já caiu na IV OBA realizada em 2001. Além disso na V OBA realizada em 2002 fizemos várias questões mostrando as evidências quanto à verdadeira forma da trajetória da Terra ao redor do Sol. Esperamos que neste ano você acerte esta questão. Você sabe que toda vez que faz aniversário é porque se passou mais um ano para você, certo? Isto significa que o planeta Terra deu mais uma volta ao redor do Sol desde o seu último aniversário. Muito bem, esperamos que você já tenha estudado a forma do movimento da Terra ao redor do Sol. Uma das figuras abaixo é a que melhor representa o movimento da Terra ao redor do Sol.

Perguntas:

4a) (0,5 ponto) Pinte (de qualquer cor) a figura abaixo, que na sua opinião, melhor representa o movimento da Terra ao redor do Sol.

4b) (0,5 ponto) Na figura que você escolher no item (a) desta pergunta desenhe o Sol (basta fazer um ponto) no lugar que melhor representa o lugar que ele deve ocupar.

Observação: Não existe nenhum efeito de perspectiva nas figuras.



4a) - Nota obtida: _____

4b) - Nota obtida: _____

Questão 5) (1 ponto) Sabemos muitas coisas sobre a nossa Lua, como por exemplo, ela não tem atmosfera, e portanto não tem ventos e nuvens; lá não chove, ela é bem menor que a Terra, etc. A Lua também é muito útil para a Terra, pois muitos dos asteróides que colidiram com a Lua poderiam ter colidido com a Terra se ela não estivesse lá, haja vista o grande número de crateras que ela tem.

Perguntas:

5a) (0,5 ponto) O que mais se vê na Lua quando a observamos através de um binóculo ou através de até mesmo uma simples luneta feita em casa com lente de óculos?

5b) (0,5 ponto) Por que não vemos a Lua quando ela está na chamada fase Nova?

Respostas:

Resposta 5a):

5a) - Nota obtida: _____

Resposta 5b):

5b) - Nota obtida: _____

Questão 6) (1 ponto) Relacione as duas colunas escrevendo nos parênteses o número que melhor relaciona as duas colunas. (Obs. cada item correto vale 0,2 pontos).

6) - Nota obtida: _____

(1) Clyde William Tombaugh	() Terra e Plutão
(2) Nome do conjunto de todas as estrelas que vemos no céu	() Agosto
(3) Principal responsável pelas marés da Terra	() Lua
(4) Nome do oitavo mês do ano e dado em homenagem ao Imperador romano Augusto.	() Galáxia ou Via Láctea
(5) Nomes dos planetas com uma só lua cada um	() Descobridor do planeta Plutão

Questão 7) (1 ponto) Relacione as duas colunas escrevendo nos parênteses o número que melhor relaciona as duas colunas. (Obs. cada item correto vale 0,2 pontos).

7) - Nota obtida: _____

(1) Duração do dia terrestre	() 365 dias
(2) Duração aproximada do ano terrestre	() Rotação
(3) Nome das 4 principais fases da Lua	() Primavera, Verão, Outono e Inverno
(4) Nome das 4 estações do ano	() Cheia, Quarto Minguante, Nova e Quarto Crescente
(5) Nome dado ao movimento da Terra responsável pelos dias e noites	() 24 horas

Questão 8) (1 ponto) Como você sabe o objeto de estudo da Astronomia são as estrelas, planetas, luas, galáxias, etc, etc. Portanto, se você quer participar da OBA precisa estudar o que está nos livros, revistas, internet, etc, mas também precisa olhar e observar o céu. Por exemplo, esperamos que você já tenha observado a estrela mais brilhante do céu depois do Sol. O nome dela é Sirius, ela está a 8,7 anos luz da Terra, ela tem o dobro da massa do nosso Sol e além disso ela tem uma companheira chamada Sirius B, que gira ao redor dela e é bem pequenina. Sirius B tem quase o dobro do tamanho da Terra por isso ela é chamada de estrela anã branca, pois sua cor é branca. Sirius e Sirius B formam o que chamamos de um sistema binário. Mas voltemos a Sirius, a estrela mais brilhante do nosso céu. Ela fica na constelação do Cão Maior e está quase na mesma direção em que vemos as Três Marias. Esperamos que você consiga localizar a estrela Sirius, pois na próxima OBA vamos fazer uma pergunta sobre ela.

Perguntas:

8a) (0,5 ponto) Desenhe a “constelação das Três Marias”.

8b) (0,5 ponto) Já que falamos em anos-luz, o que é mesmo um ano luz?

Respostas:

Resposta 8a):

8a) – Nota obtida: _____

Resposta 8b):

8b) – Nota obtida: _____

Questão 9) (1 ponto) O céu visto aqui da Terra, durante o dia, é azul e isto porque a luz vinda do Sol (o único astro com luz própria do sistema solar) é espalhada pela atmosfera. Na luz que vem do Sol estão juntas todas as cores que vemos no arco-íris. Acontece que a cor azul é mais bem espalhada do que todas as outras quando entra na atmosfera terrestre. A cor vermelha é a menos espalhada. Assim sendo, dependendo do tipo de atmosfera que tem o planeta ou satélite, o céu pode ter cor diferente do nosso lindo azul.

Perguntas:

9a) (0,5 ponto) Qual é a cor do Sol quando ele está bem pertinho de se pôr?

9b) (0,5 ponto) Não tendo a Lua atmosfera, qual é a cor do céu da Lua? Uma ajudazinha: durante o dia e durante a noite o céu da Lua tem a mesma cor. Agora ficou fácil, não é mesmo?)

Respostas:

Resposta 9a):

9a) – Nota obtida: _____

Resposta 9b):

9b) – Nota obtida: _____

Questão 10) (1 ponto) Nesta questão vamos ver o quanto você sabe sobre as características do sistema solar. Escreva na coluna da direita o nome do planeta correspondente à afirmação da coluna da esquerda. Obs. Pode haver nomes repetidos. (Obs. cada item correto vale 0,2 pontos).

10) – Nota obtida: _____

Característica do planeta	Nome do planeta
Planeta bem menor que a Terra e com duas luas pequeninas. É vermelho e seu nome representa o deus da guerra.	
Planeta sem lua, é o segundo menor planeta, é o mais próximo do Sol e seu nome representa o deus mensageiro dos deuses.	
Planeta sem lua, é o mais brilhante, só visível ao amanhecer ou no início da noite e seu nome é o da deusa do amor	
O maior dos planetas. É gasoso. Tem anéis invisíveis da Terra. Tem dezenas de luas e seu nome representa o mais poderoso de todos os deuses	
O segundo maior dos planetas com os mais belos anéis. É gasoso. Tem dezenas de luas e seu nome representa o deus da agricultura.	

Fim da Prova!

Observação: Em agosto vai estar bem visível, logo ao anoitecer, bem alta no céu, a constelação do Escorpião. Os chineses a viam como um anzol de pescar. Tente identificá-la. A estrela mais brilhante desta constelação não é amarela como nosso Sol. Observe a estrela mais brilhante da constelação do Escorpião, porque no próximo ano vamos perguntar qual é a cor dela. E não esqueça de observar Sirius também. Neste mesmo mês Marte vai ser o astro mais brilhante do céu noturno, depois da Lua.

Até 2004!