

**SOCIEDADE ASTRONÔMICA BRASILEIRA – SAB**  
**VI Olimpíada Brasileira de Astronomia – VI OBA - 2003**  
**Prova do nível II (para alunos da 5ª à 8ª série)**

(Veja o gabarito em nossa home page <http://www.oba.org.br> ou aguarde o professor mostrar).

Nota Final Obtida: \_\_\_\_\_

Visto do(a) Prof(a).: \_\_\_\_\_

**Dados do(a) aluno(a) (use letras de fôrma):**

Nome completo:.....

Endereço: ..... n.º.....

Bairro:..... CEP: \_\_\_\_\_ - \_\_\_\_\_ Cidade: ..... Estado: \_\_\_\_

Tel (0 xx \_ \_ ) \_\_\_\_\_ - \_\_\_\_\_ E-mail: ..... Data de Nascimento \_\_/\_\_/\_\_

**Dados da escola onde o(a) aluno(a) estuda:**

Nome da escola.....

Endereço: ..... n.º.....

Bairro:..... CEP: \_\_\_\_\_ - \_\_\_\_\_ Cidade: ..... Estado: \_\_\_\_

Tel (0 xx \_ \_ ) \_\_\_\_\_ - \_\_\_\_\_ Fax (0 xx \_ \_ ) \_\_\_\_\_ - \_\_\_\_\_ E-mail: .....

**Nome do(a) professor(a) representante da Escola junto à OBA:**

Nome: .....

Obs.: Caso você não esteja fazendo a prova na própria escola onde estuda, escreva abaixo, o nome da escola onde você está fazendo a prova:

Nome: .....

Início da prova: 14 horas. Final da prova: 16 horas (Horário de Brasília).

*Caro participante Olímpico,*

*Em nome da Sociedade Astronômica Brasileira (SAB) damos os nossos parabéns para você. Certamente você já está ganhando ao participar desta Olimpíada, pois para tanto você estudou, leu, se preparou e quem estuda sempre está ganhando. Gostaríamos que você prestasse muita atenção nos enunciados das questões, pois elas geralmente possuem informações que ajudam você responder à própria questão ou então, outras questões da prova.*

***Boa Olimpíada!***

**Questão 1) (1 ponto)** O céu visto aqui da Terra, durante o dia, é azul e isto porque a luz vinda do Sol (o único astro com luz própria do sistema solar) é espalhada pela atmosfera. Na luz que vem do Sol estão juntas todas as cores que vemos no arco-íris. Acontece que a cor azul é mais bem espalhada do que todas as outras quando entra na atmosfera terrestre. A cor vermelha é a menos espalhada. Assim sendo, dependendo do tipo de atmosfera que tem o planeta ou satélite, o céu pode ter cor diferente do nosso lindo azul.

**Perguntas:**

**1a) (0,5 ponto)** Qual é a cor do Sol quando ele está bem pertinho de se pôr?

**1b) (0,5 ponto)** Não tendo a Lua atmosfera, qual é a cor do céu da Lua durante o dia?

**Respostas:**

**Resposta 1a):**

**1a) - Nota obtida:** \_\_\_\_\_

**Resposta 1b):**

**1b) - Nota obtida:** \_\_\_\_\_

---

**Questão 2) (1 ponto)** Geralmente os livros didáticos descrevem o sistema solar como tendo nove planetas. Muitas pessoas acabam pensando que além de Plutão, não existe mais nada. Na verdade depois de Plutão o sistema solar ainda continua. Só que lá não tem planetas grandes ou pequenos como Plutão. Depois de Plutão existe uma região chamada “Cinturão de Kuiper”. Chamamos de “Cinturão” por que eles são como “cintas” (destas usadas para a calça não cair), mas são bem largas. Neste “Cinturão de Kuiper” já foram identificados dezenas de asteróides. Deste cinturão vem a maioria dos cometas que ficam quase no mesmo plano das órbitas dos planetas.

**Perguntas:**

**2a) (0,5 ponto)** Tem um outro cinturão de asteróides bem mais perto da Terra e que geralmente é representado nos livros didáticos. Deste cinturão conhecemos milhares de asteróides e vários até já foram fotografados em detalhes. Qual é a localização deste cinturão de asteróides? Isto é, ele fica entre as órbitas de quais planetas?

**2b) (0,5 ponto)** Você acha que já existe alguma foto com detalhes da superfície dos asteróides do “Cinturão de Kuiper”? Pense bem! Eles são pequeníssimos e estão depois de Plutão.

**Respostas:**

**Resposta 2a):**

**2a) - Nota obtida:** \_\_\_\_\_

**Resposta 2b):**

**2b) - Nota obtida:** \_\_\_\_\_

---

**Questão 3) (1 ponto)** Assim como o sistema solar não acaba em Plutão, ele também não termina no cinturão de Kuiper. Muito além de Plutão e do cinturão de Kuiper mas ainda pertencente ao sistema solar existe a “Nuvem de Oort”. Esta é uma região esférica, distante do Sol cerca de 1 ano luz, e que contém os restos do material que deu origem ao sistema solar. Desta região vêm os cometas que não ficam no plano das órbitas dos planetas.

**Perguntas:**

**3a) (0,5 ponto)** Já que falamos em anos luz, o que é mesmo um ano luz?

**3b) (0,5 ponto)** Se um sinal luminoso fosse enviado da nuvem de Oort para a Terra, quanto tempo (em anos) ele demoraria para chegar até nós?

**Respostas:**

**Resposta 3a):**

**3a) - Nota obtida:** \_\_\_\_\_

**Resposta 3b):**

**3b) - Nota obtida:** \_\_\_\_\_

**Questão 4) (1 ponto)** Apesar de Plutão ser o menor e mais distante planeta do sistema solar já temos bastante informações sobre ele. Por exemplo, sabemos que ele tem só uma lua, a qual chamamos de Caronte e foi descoberta em 1978 por James W. Christy e Robert S. Harrington. Caronte tem algo de muito interessante. Caronte fica sempre com a mesma face virada para Plutão e Plutão também fica sempre com a mesma face virada para Caronte. Se você morasse em Plutão na face (ou hemisfério) que fica virada para Caronte, toda noite você veria Caronte no mesmo lugarzinho no céu (céu de Plutão, claro!). Por outro lado, se você morasse em Plutão na face oposta àquela virada para Caronte, você nunca veria Caronte a menos que viajasse até o outro hemisfério de Plutão.

**Perguntas:**

**4a) (0,5 ponto)** Tem um outro planeta, o qual, tal qual Plutão, também só tem um lua (ou satélite natural) e esta lua também fica sempre com a mesma face virada para o planeta, mas diferentemente de Plutão, este planeta não fica sempre com a mesma face virada para esta sua lua. Pergunta: Qual é o nome deste planeta?

**4b) (0,5 ponto)** Qual é o nome da lua deste planeta?

**Respostas:**

**Resposta 4a):**

**4a) - Nota obtida:** \_\_\_\_\_

**Resposta 4b):**

**4b) - Nota obtida:** \_\_\_\_\_

---

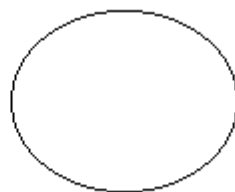
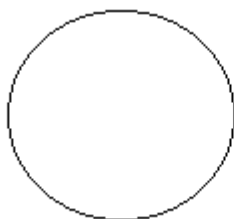
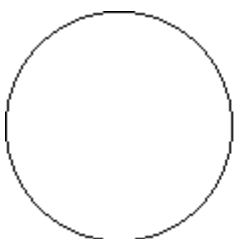
**Questão 5) (1 ponto)** Esperamos que tenha o hábito de ler as provas anteriores das OBAs e seus respectivos gabaritos, pois esta questão já caiu na IV OBA realizada em 2001. Além disso na V OBA realizada em 2002 fizemos várias questões mostrando as evidências quanto à verdadeira forma da trajetória da Terra ao redor do Sol. Esperamos que neste ano você acerte esta questão. Você sabe que toda vez que faz aniversário é porque se passou mais um ano para você, certo? Isto significa que o planeta Terra deu mais uma volta ao redor do Sol desde o seu último aniversário. Muito bem, esperamos que você já tenha estudado a forma do movimento da Terra ao redor do Sol. Uma das figuras abaixo é a que melhor representa o movimento da Terra ao redor do Sol.

**Perguntas:**

**5a) (0,5 ponto)** Pinte (de qualquer cor) a figura abaixo, que na sua opinião, melhor representa o movimento da Terra ao redor do Sol.

**5b) (0,5 ponto)** Na figura que você escolher no item (a) desta pergunta desenhe o Sol (basta fazer um ponto) no lugar que melhor representa o lugar que ele deve ocupar.

Observação: Não existe nenhum efeito de perspectiva nas figuras.



**5a) – Nota obtida:** \_\_\_\_\_

**5b) - Nota obtida:** \_\_\_\_\_

**Questão 6) (1 ponto)** Sabemos muitas coisas sobre o Sol, por exemplo, a temperatura na superfície dele é de 6.000 °C, mas bem acima dele e ao redor dele há um gás com temperatura de 2 milhões de graus Celsius que forma a chamada “Coroa Solar” a qual fica perfeitamente visível durante um eclipse solar total.

**Perguntas:**

**6a) (0,5 ponto)** Por que **não** podemos observar o Sol durante um eclipse usando vidro escuro de garrafa, ou qualquer vidro esfumado, ou negativos de filmes?

**6b) (0,5 ponto)** Por que o Sol é fundamental para a existência de vida na Terra?

**Respostas:**

**Resposta 6a):**

**6a) - Nota obtida:** \_\_\_\_\_

**Resposta 6b):**

**6b) - Nota obtida:** \_\_\_\_\_

**Questão 7) (1 ponto)** Relacione as duas colunas escrevendo nos parênteses o número que melhor relaciona as duas colunas. (Obs. cada item correto vale 0,2 pontos).

**7) - Nota obtida:** \_\_\_\_\_

(1) James W. Christy e Robert S. Harrington	( ) Mercúrio e Vênus
(2) Astro do qual depende toda a vida na Terra	( ) Julho
(3) Principal responsável pelas marés da Terra	( ) Lua
(4) Nomes dos planetas sem luas	( ) Sol
(5) Nome do sétimo mês do ano e dado em homenagem ao Imperador romano Júlio César	( ) Descobridores da lua Caronte de Plutão

**Questão 8) (1 ponto)** Do jardim da nossa casa até os confins do Universo, nos deparamos com as mais incríveis dimensões, tanto em tamanho quanto em massa, peso ou velocidades. No quadro abaixo, enumere em ordem crescente de 1 a 10 o tamanho e a massa de cada objeto (Obs. cada item correto vale 0,1 ponto).

**8) - Nota obtida:** \_\_\_\_\_

OBJETO	TAMANHO	MASSA
Galáxia ( ou Via Láctea)		
Maçã		
Saturno		
Estrela de Nêutron		
Terra		
Neutrino		
Lua		
Núcleo Atômico		
Ser Humano		
O Aglomerado de Virgo		

**Questão 9) (1 ponto)** Como você sabe o objeto de estudo da Astronomia são as estrelas, planetas, luas, galáxias, etc, etc. Portanto, se você quer participar da OBA precisa estudar o que está nos livros, revistas, internet, etc, mas também precisa olhar e observar o céu. Por exemplo, esperamos que você já tenha observado a estrela mais brilhante do céu depois do Sol. O nome dela é Sirius, ela está a 8,7 anos luz da Terra, ela tem o dobro da massa do nosso Sol e além disso ela tem uma companheira chamada Sirius B, que gira ao redor dela e é bem pequenina. Sirius B tem quase o dobro do tamanho da Terra por isso ela é chamada de estrela anã branca, pois sua cor é branca. Sirius e Sirius B formam o que chamamos de um sistema binário. Mas voltemos a Sirius, a estrela mais brilhante do nosso céu noturno. Ela fica na constelação do Cão Maior e está quase na mesma direção em que vemos as Três Marias. Esperamos que você consiga localizar a estrela Sirius, pois na próxima OBA vamos fazer uma pergunta sobre ela.

**Perguntas:**

**9a) (0,5 ponto)** Desenhe a “constelação das Três Marias”.

**9b) (0,5 ponto)** Já que falamos em anos-luz, qual é a velocidade da luz?

**Respostas:**

**Resposta 9a):**

**9a) - Nota obtida: \_\_\_\_\_**

**Resposta 9b):**

**9b) - Nota obtida: \_\_\_\_\_**

---

**Questão 10) (1 ponto)** A Terra tem um movimento muito complexo. Para melhor estudá-lo os cientistas separam este movimento em partes. Três destes movimentos são: a translação, a rotação e a precessão. A precessão acarreta uma mudança contínua na posição das constelações zodiacais em relação ao equador celeste ao longo de um período de 26.000 anos. Suponha que, numa noite do ano 2003, de sua casa, você esteja vendo o nascer da constelação do Sagitário. As doze constelações zodiacais em ordem crescente de ascensão reta são: Carneiro, Touro, Gêmeos, Caranguejo, Leão, Virgem, Balança, Escorpião, Sagitário, Capricórnio, Aquário e Peixes.

**Pergunta:** Olhando de sua casa para a mesma região do céu, porém, daqui a 13.000 anos (situação hipotética, claro!), que constelação zodiacal você poderia ver no lugar do Sagitário?

**Resposta 10):**

**10) - Nota obtida: \_\_\_\_\_**

---

**Fim da Prova!**

**Observação:** Em agosto vai estar bem visível, logo ao anoitecer, bem alta no céu, a constelação do Escorpião. Os chineses a viam como um anzol de pescar. Tente identificá-la. A estrela mais brilhante desta constelação não é amarela como nosso Sol. Observe a estrela mais brilhante da constelação do Escorpião, porque no próximo ano vamos perguntar qual é a cor dela. E não esqueça de observar Sirius também. Neste mesmo mês Marte vai ser o astro mais brilhante do céu noturno, depois da Lua.

Até 2004!